

У-2-4

448

ВСЕРОССИЙСКАЯ ОЛИМПИАДА ШКОЛЬНИКОВ ПО ИСТОРИИ 2019-2020 уч.г.
Муниципальный этап
7 класс. 90 минут

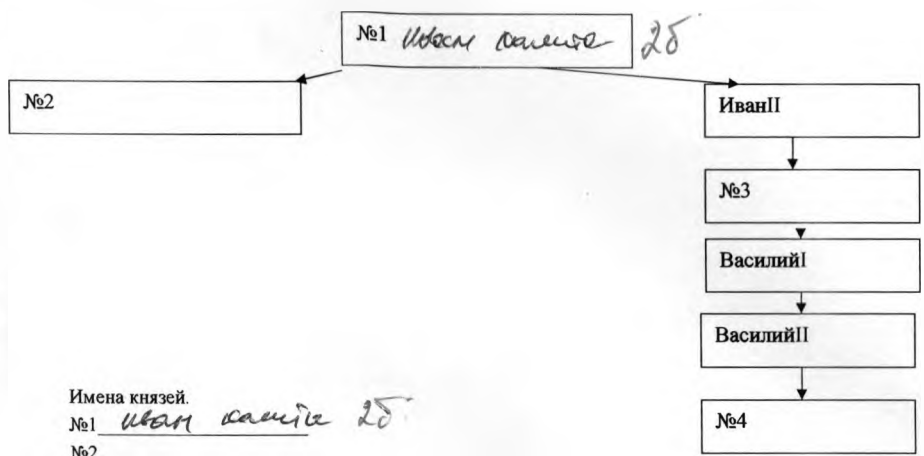
Задание 1. Прочитайте отрывок из стихотворения, заполните пропуски и ответьте на вопросы (1 балл за правильный ответ, максимальный балл - 4):

Дорогу столбовую предки строя
Торговый путь освоили впервой.
Коварен путь был и опасен
По морю начинал идти.
В реку Нева из Балтики катился,
По Ладоге потом пошли
Из речки Волхов в озеро Ильмень,
Река Ловати на подходе.
И волоки готовим до Днепра,
И море Черное открылось.

Вопросы:

1. Как назывался торговый путь? из варяг в греки 4 балла
2. Почему его так называли? из-за того, что торговцы шли из Риги до Константинополя 1 балл
3. В каком городе этот торговый путь заканчивался? Константинополь 1 балл
4. Как этот город называли на Руси? Царьград 1 балл

Задание 2. Восстановите пропуски в генеалогической таблице великих князей Московских XIV- начала XVI веков и ответьте на вопрос (2 балла за правильный ответ, максимальный балл - 10)



Имена князей.

- №1 Иван Калита 2 балла
 №2 _____
 №3 Иван III
 №4 Василий III

Назовите князя из этой таблицы, который несколько раз терял московский престол, лишился глаз в борьбе за власть и получил из-за этого прозвище «Темный»

Василий II Темный 2 балла

Задание 3. Установите соответствия. Запишите в таблицу выбранные цифры под соответствующими буквами (1 балл за каждую правильно указанную цифру, максимальный балл - 15):

3.1. Соотнесите понятия и их толкования. Во втором списке есть лишний вариант:

- | | |
|---------------|--|
| а) агнография | 1) метательная машина, применявшаяся при осаде и обороне крепостей |
| б) бердыш | 2) порядок старшинства между родами, порядок престолонаследия |
| в) сажень | 3) топор с широким лезвием в виде полумесяца на длинном древке (2 метра) |
| г) порок | 4) система содержания должностных лиц за счет местного населения |
| д) лествица | 5) жанр христианской литературы, жития святых |
| | 6) старинная русская мера длины |

3.2. Соотнесите событие и дату:

- | | |
|--|------------|
| а) Присоединение Казанского ханства | 1) 1240 г. |
| б) Разгром Хазарского каганата | 2) 1612 г. |
| в) Невская битва | 3) 1667 г. |
| г) Изгнание польских интервентов из Москвы | 4) 1547 г. |
| д) Андрусовское перемирие с Польшей | 5) 965 г. |

3.3. Соотнесите событие и изречение с которым оно связано. Во втором списке есть лишний вариант:

- | | |
|---|------------------------|
| а) «Если повадится волк к овцам, то перетаскает все стадо, если не убить его» | 1) крещение Руси |
| б) «Если не придет кто завтра на реку - будь то богатый, или бедный, или нищий, или раб, - будет мне врагом». | 2) битва на реке Калке |
| в) «Земля наша велика и обильна, а порядка в ней нет» | 3) призвание варягов |
| г) «Держит каждый отчину свою» | 4) Куликовская битва |
| д) «Если вы нам не поможете, то сегодня мы были побиты, а вы завтра побиты будете» | 5) восстание древлян |
| | 6) Любечский съезд |

№	А	Б	В	Г	Д
3.1	5 1	11	6 1	3	2 1
3.2	4	5 1	1 1	2 1	3 1
3.3	5 1	1 1	3 1	6 1	2 1

Задание 4. Выберите по 1 верному ответу в каждом задании (2 балла за каждый правильный ответ, максимальный балл - 8)

4.1. Прочтите отрывок и укажите произведение, фрагментом которого он является. «Трубы трубят в Новгороде, стоят стяги в Путивле, Игорь ждет милого брата Всеволода. И сказал ему Буй-Тур Всеволод: «Один брат, один свет светлый - ты, Игорь! Оба мы Святославичи! Седлай же, брат, своих борзых коней, а мои готовы, уже оседланы у Курска. А мои курыне бывалые воины: под трубами повиты, под шлемами взлелены, с конца копья вскормлены; пути им ведомы, яруги известны, луки у них натянуты, колчаны открыты, сабли наточены. Сами скажут, как серые волки в поле, ища себе чести, а князю - славы».

- ✓ А) «Слово о полку Игореве»;
- Б) «Домострой»
- В) «Поучение Владимира Мономаха»; Г) «Моление Даниила Заточника»

4.2. О каком городе князь Олег сказал: «Да будет это мать городам русским».

- ✓ А) Новгород
Б) Москва
В) Владимир
Г) Киев

4.3. Результатом политики Ивана Калиты является...

- А) присоединение к Москве Казани
Б) присоединение к Москве Тверского княжества
В) установление независимости Руси от Золотой Орды
Г) хозяйственное и военное укрепление Московского княжества

4.4. Укажите известного иконописца XIV - начала XV вв.:

- А) Андрей Чохов
Б) Прокопий Ляпунов
В) Аристотель Фиораванти
✓ Г) Феофан Грек

4.1.	4.2.	4.3.	4.4.
А Б	В Г Д	Г Д	Г Д

85

Задание 5. Выберите несколько верных ответов в каждом задании (4 балла за каждое задание, максимальный балл - 12)

5.1. Выберите из списка историков XVIII века авторов норманнской теории:

- ✓ 1. В.Н. Татищев
✓ 2. Г.З. Байер
3. А.Л. Шлецер
4. М.В. Ломоносов
5. Г.Ф. Миллер

5.2. Выберите из предложенного перечня события, относящиеся к периоду феодальной раздробленности:

1. битва на реке Калке
2. крещение Руси
3. Ледовое побоище
✓ 4. первое летописное упоминание о Москве
✓ 5. походы русских князей на Константинополь

5.3. Какие события происходили в России в период Столетней войны в Европе (1337 - 1453)?

1. битва на реке Воже
2. стояние на Угре
3. разорение Москвы ханом Тохтамышем
✓ 4. Куликовская битва
5. антиордынское восстание в Твери

5.1.	5.2.	5.3.
1) 2)	5) 4)	4) 2)

Задание 6. Что объединяет понятия, события, имена, образующие каждый из представленных рядов? Дайте краткий ответ (2 балла за каждое задание, максимальный балл - 6)

65

- 6.1. барабан, купол, апсида, портал *- детали связанные с архитектурой церкви*
- 6.2. Илларион, Петр, Алексей, Макарий, Филипп *Дмитрий*
- 6.3. Непрядва, Угра, Вожа, Калка, Альта *реки в Новгородской России*

Задание 7. Восстановите хронологическую последовательность появления следующих архитектурных памятников (2 балла за каждую правильно указанную цифру, максимальный балл - 12)

65

- 1. Собор Василия Блаженного 6
- 2. Церковь Покрова в Филях 2
- 3. Успенский собор Московского кремля 5 25
- 4. Софийский собор в Новгороде 4
- 5. Золотые ворота во Владимире 3
- 6. Церковь Спаса на Ильине улице в Новгороде 1 25

45

Задание 8. Прочитайте текст. Заполните пробелы в тексте. Ответ оформите в виде перечня элементов под соответствующими номерами. (1 балл за каждый правильно заполненный пропуск, максимальный балл - 10)

Опасаясь потери своих привилегий в случае подчинения Москве (1) часть новгородского боярства во главе с посадничей Марией (2) заключила соглашение о вассальной зависимости Новгорода от _____ (3). Узнав об этом великий князь Иван IV (4) принял решительные меры к подчинению Новгорода и организовал против него поход в Новгород (5). Решающее сражение произошло на реке _____ (6). Окончательно Новгород был присоединен через семь лет в _____ (7) г. Было ликвидировано _____ (8), из города был вывезен Савва (9), а управлять городом вместо _____ (10) стал наместник.

- 1. Москва
- 2. Анна Мария
- 3. Иван IV
- 4. Иван IV
- 5.
- 6.
- 7.
- 8. Савва
- 9.
- 10.

Задание 9. Прочитайте отрывок из «Временника» Ивана Тимофеева. Выполните задания. (2 балла за каждый ответ, максимальное количество баллов - 8)

«От замысла, (исполненного) чрезмерной ярости на своих рабов, он сделался таким, что возненавидел все города земли своей и в гнев своем разделил единый народ на две половины, сделав как бы двоеверным, - одних приближая, а других отстраняя,

и соседь

оттолкнув их как чужих, (так что) из-за его запрещения многие города не смели совсем и именем его называться; всю землю своей державы он, как топором, рассек на две половины <...> А многих вельмож своего царства, расположенных к нему, перебил, а других изгнал от себя в страны иной веры и вместо них возлюбил приезжающих к нему из окрестных стран, осыпав их большими милостями; некоторых из них посвятил и в свои тайные мысли, другие полюбились ему знанием врачебного искусства и тем, что ложно обещали принести ему здоровье, используя свои знания, - а они, говоря правду, принесли душе его вред, а телу большее нездоровье, а вместе с этим внушили ему и ненависть к своим людям <...>

Как волков от овец, отделил он любезных ему от ненавидимых им, дав избранным воинам подобные тем же знаки: всех их он от головы до ног облек в черное одеяние и повелел каждому иметь у себя таких же, как и одежды, коней; всех своих воинов он во всем уподобил бесподобным слугам. Куда они посылались с поручением произвести казнь, там они по виду казались темной ночью и неудержимо быстро носились, свирепствуя: одни не смели не исполнить воли повелителя, а другие работали своей охотой по своей жестокости, суетно обогащаясь, - одним видом они больше, чем страхом смерти, пугали людей. Читающие это от изображения вещи поймут и свойство ее <...>

1. Как назвались части разделенной территории? Славянина 25
2. В каком году произошел этот раздел? в 1665 г. 25
3. Назовите имя упомянутого царя Шан IV Трехок 25
4. Назовите хотя бы ещё одно событие, произошедшее в правление этого же царя

60

Задание 10. Перед вами два памятника, относящиеся к древнерусской архитектуре. Памятники воздвигнуты с разницей в одно столетие, однако носят одинаковое название. Ответьте на вопросы и заполните таблицу (по 2 балла за правильный ответ, максимальный балл - 10)



	Строение №1	Строение №2
Общее название этих строений	<u>Владимирский</u>	<u>сосор</u>
Город	<u>Москва</u>	<u>Владимир</u>
Век постройки	<u>16</u>	<u>18</u>

45

БЛАГОДАРИМ ЗА УЧАСТИЕ!

U-8-003

ВСЕРОССИЙСКАЯ ОЛИМПИАДА ШКОЛЬНИКОВ ПО ИСТОРИИ 2019-2020 уч.г.
Муниципальный этап
8 класс. 90 минут

Задание 1. Выберите и подчеркните по 1 верному ответу в каждом задании (1 балл за каждый правильный ответ, максимальный балл – 4):

1.1. Человек, отрабатывающий задолженность на основании договора, в Русской Правде называется

- а) смердом б) ряловичем в) огнищанином г) челядином.

1.2. Какой из этих городов не был присоединен к Московскому княжеству в период правления Ивана III?

- а) Новгород б) Ростов в) Псков г) Тверь

1.3. Прочтите отрывок из сочинений Андрея Курбского и укажите, о каком событии идет речь. «И по осми днях, сам Государь поиде с воинством на место великое, глаголемое Муром, еже лежит от поля уже к оному предреченному новому граду, поставленному на Святе и воинство его ждало. А нас тогда послал через... Рязанскую землю и потом через Мещерскую»

- а) Поход на Новгород б) Ливонская война в) Взятие Казани г) Присоединение Сибирского ханства

1.4. Какой ряд понятий относится к XVI в.?

- а) вира, лествица, ярлык, летник б) поместье, вотчина, ясак, местничество
в) волость, воевода, полудье, повалуша г) барокко, вече, стан, опашень

1.1.	1.2.	1.3.	1.4.
б	а	в	б

Задание 2. Установите соответствие между полководцем и битвой, в которой он принимал участие. Запишите выбранные цифры под соответствующими буквами в таблицу в бланке работы (1 балл за каждый правильный ответ, максимальный балл – 4).

ПОЛКОВОДЕЦ	БИТВА
А) М.М. Голицын	1) Гангутское сражение
Б) А.В. Суворов	2) Гренгамское сражение
В) М.Б. Шенн	3) осада Смоленска
Г) Г.А. Спиридов	4) Чесменское сражение
	5) сражение при Козлудже

А	Б	В	Г
2	5	53	4

Задание 3. Прочитайте пословицы и поговорки и дайте комментарии (максимальный балл – 9: за правильное выполнение каждого задания А – 2 балла, задания Б – 1 балл):

- А) Реакцией на какие события явилась эта пословица (поговорка)?
Б) Когда произошли эти события.

1. Умерла та курица, что несла Орде золотые яйца

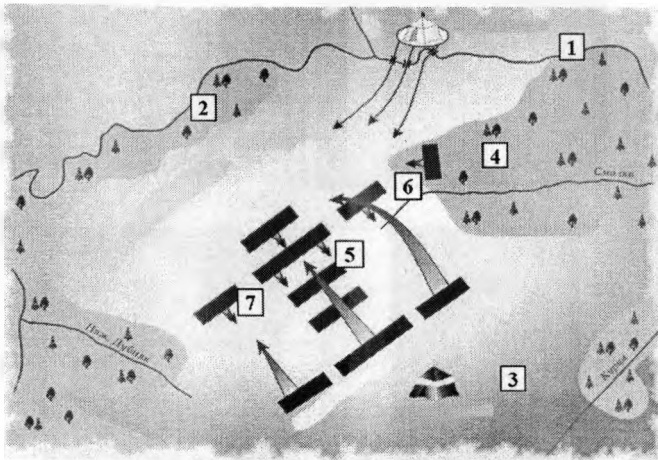
А) Пословица наказание в Куликовской битве

Задание 6. Определите пропущенные в тексте названия, слова, имена, даты, обозначенные порядковыми номерами. Необходимые вставки впишите под соответствующими номерами в таблицу в бланке работы. (Максимальное количество баллов за задание – 17 баллов)

В 1617 году Россия и Швеция заключили _____ (1) мирный договор. Шведы возвратили _____ (2) землю, но получили Иван-город, Ям, Копорье, Орешек. Россия потеряла выход в _____ (3) море. <...> В 1617 - 1618 годах польский королевич _____ (4) совершил поход на Москву, но взять ее не смог. Было подписано _____ (5) перемирие. Россия была вынуждена отдать Польше _____ (6) и Черниговские земли. <...> В 1632 году Россия начала войну с _____ (7), но потерпела поражение. <...> Сохранялась угроза со стороны _____ (8) ханства, находившегося в вассальных отношениях с Турцией. После Смуты были приняты меры по укреплению границы. Началось строительство Белгородской _____ (9) черты. <...> Продолжалось продвижение русских в Сибирь. Оно осуществлялось по двум направлениям. Один путь лежал вдоль побережья _____ (10) океана. В 1648 году казак Семен _____ (11) с товарищами на небольших судах открыл пролив, отделяющий Азию от Северной Америки. Другой путь на восток шел вдоль южных границ Сибири. В 1643 - 1646 годах, по Амуру в Охотское море вышла экспедиция Василия _____ (12). Через три года совершил путешествие по Амуру Ерофей _____ (13). К середине XVII века территория России расширилась до берегов _____ (14) океана.

1		8	Копорье	+
2		9	Белгородская	-
3	Балтийское	10	Турция	-
4		11	Дежнев	+
5		12	Покров	
6	Смоленские	13	Кюбин	+
7	Польша	14	Тихого	+

Задание 7. Рассмотрите схему и выполните задания. Ответы внесите в таблицу. (Максимальный балл за задание – 18; за верное выполнение части 7.1. – 6 баллов, части 7.2. – 12 баллов)



66

7.1. Заполните пропуски в предложениях. Ответ внесите в таблицу № 7.1 в бланке работы.

- А) На карте отражён ход _____ битвы, состоявшейся в _____ году.
 Б) Реки, обозначенные цифрами _____ и _____, – это Непрядва и Дон соответственно.
 В) Полк, обозначенный цифрой _____, не выдержал натиска вражеской конницы и стал отходить к Непрядве
 Г) Полком, обозначенным цифрой _____, командовали серпуховской князь Владимир Андреевич и воевода Дмитрий Михайлович Боброк-Волынский.
 Д) В полку, обозначенном цифрой _____, сражался переодетый в великокняжеские доспехи боярин Михаил Бренок.
 Е) Войсками, ставка которых обозначена цифрой 3, командовал _____.

Таблица 7.1.

А	Куликовской, 1460 -
Б	201 +
В	7 -
Г	5 -
Д	6 -
Е	Дмитрий Волынский -



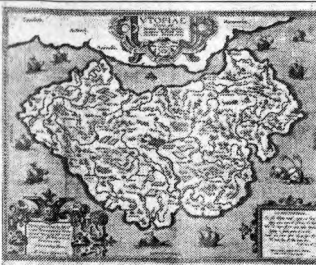





7.2. Согласны ли Вы с приведёнными утверждениями? Впишите в таблицу напротив порядковых номеров верных утверждений «Верно», напротив ложных утверждений – «Неверно». В случае, если Вы считаете утверждение неверным, дайте краткое обоснование своему ответу. Ответ внесите в таблицу № 7.2 в бланке работы.

- 1) В легендарном поединке, открывшем изображённое на схеме сражение, погибли оба воина.
 2) Великий князь Дмитрий Иванович сражался как простой воин в сторожевом полку, а затем в большом полку.
 3) На стороне московского князя в изображённом на схеме сражении выступил великий князь Литовский Ягайло и его старшие братья Андрей и Дмитрий.
 4) Союзником вражеских войск в изображённом на схеме сражении выступил рязанский князь Роман Ингваревич.
 5) Потерпев поражение в изображённом на схеме сражении, Мамай вскоре потерпел новое поражение в столкновении с Тохтамышем на реке Калке.
 6) Автором одного из произведений, посвящённых изображённому на схеме сражению, стал Софроний Рязанец.

Таблица 7.2.

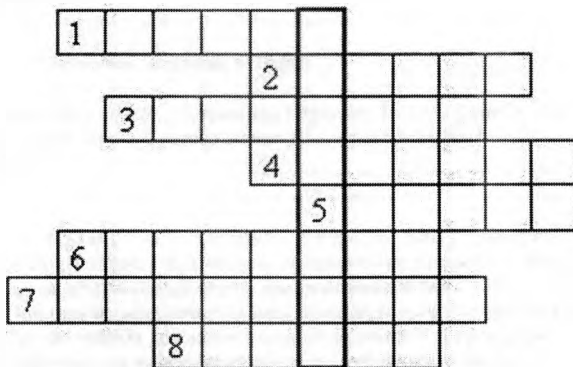
Номер вопроса	Верно / Неверно (+обоснование в случае «неверно»)
1	Верно 20
2	Верно 20
3	Неверно - Ягайло не участвовал в Куликовской битве 20
4	Верно - Роман Ингваревич участвовал на стороне рязанцев 20
5	Верно 20
6	Верно 20

Задание 8. Перед вами 8 музейных экспонатов, рассказывающих о страницах российской и европейской истории. Разбейте представленные экспонаты на 4 пары, пояснив, каким сюжетом они между собой связаны. Назовите представленные ниже экспонаты, ответ внесите в таблицу в соответствующие графы. (Максимальный балл - 16).

<p style="text-align: center;">1</p> 	<p style="text-align: center;">2</p> 
<p style="text-align: center;">3</p> 	<p style="text-align: center;">4</p> 
<p style="text-align: center;">5</p> 	<p style="text-align: center;">6</p> 
<p style="text-align: center;">7</p> 	<p style="text-align: center;">8</p> 

№	Название экспонатов	Что их связывает?
1 пара	1) А.В. 2) Б. 15	Они путешествовали по Китаю и привезли ценные сведения о нем. 15
2 пара	1) А. 2) Б. 15	Жаңыбы сою корабль, с которым он открыл Северный путь. 25
3 пара	1) А. 2) Б. 30	Они оба находятся в Московском Кремле. 30
4 пара	1) А. 2) Б. 15	Дважды собора и сам собор. 15

Задание 9. Разгадайте кроссворд «История нашего края». Если вы правильно отгадаете слова по горизонтали, то по вертикали в выделенных клетках прочтите название губернского города, основанного на территории современной Ульяновской области (максимальный балл – 10).



- 1 – русский естествоиспытатель, по национальности немец, автор книги «Флора России»;
- 2 – российский поэт XIX в., автор злободневных эпиграмм, фельетонов; его имя носит одна из центральных улиц Ульяновска;
- 3 – русский писатель, историк, основное сочинение которого «История государства Российского»;
- 4 – название романа, написанного И.А. Гончаровым в 1859 году;
- 5 – декабрист, уроженец села Ундоры;
- 6 – русский писатель, автор цикла путевых очерков «Фрегат «Паллада»»;
- 7 – прежнее название улицы Ленина;
- 8 – русский поэт-лирик, друг А.С. Пушкина

БЛАГОДАРИМ ЗА УЧАСТИЕ!

4-9-4

**ВСЕРОССИЙСКАЯ ОЛИМПИАДА ШКОЛЬНИКОВ
ПО ИСТОРИИ 2019-2020 уч.г.
Муниципальный этап
9 классы
I тур**

В заданиях 1-3 дайте один верный ответ. Ответ внесите в таблицу в бланке работы.
Всего 3 балла

1. Какой из указанных ниже городов **НЕ** лежал на пути из варяг в греки?

18

- 1) Любеч 2) Чернигов 3) Ладога 4) Изборск

2. Назовите князя, о котором идет речь в документе.

"Тишина Иоаннова княжения способствовала обогащению России северной. Новгород, союзник Ганзы, отправлял в Москву и другие области работу немецких фабрик. Восток, Греция, Италия присылали нам свои товары. Открылись новые способы мены, новые торжища в России: так, в Ярославской области (...) съезжались купцы Немецкие, Греческие, Итальянские, Персидские, и казна в течение летних месяцев собирала множество пошлинного серебра..."

18

- 1) Иван I 2) Иван II 3) Иван III 4) Иван IV

3. Какой храм был построен на средства военачальника Дмитрия Пожарского в память о победе России Московской битве 1612г?

18

- 1) Благовещенский собор 2) Казанский собор 3) Воскресенский собор 4) Преображенский собор

Ответ:

1	2	3
4	3	4

38

В заданиях 4-6 выберите несколько верных ответов из предложенных. Ответы внесите в таблицу в бланке работы (6 баллов)

4. Выберите из приведённого списка имена исторических личностей, чья деятельность приходится на XVI век

- 1) Мехмед II 2) Вильгельм Оранский 3) Френсис Дрейк 4) Филипп Кольчев 5) Иоганн Гуттенберг
6) Людовик XIV

5. Кто из перечисленных исторических деятелей был полным георгиевским кавалером?

what?

- 1) И.Ф. Паскевич 2) М.Д. Скобелев 3) П.А. Румянцев 4) М.Б. Барклай де Толли 5) И.И. Дибич
6) М.И. Кутузов

6. Какие из перечисленных стран входили в военно-политический блок Антанта

- 1) Япония 2) Швеция 3) Мексика 4) Китай 5) Испания 6) Бельгия

Ответ:

4	5	6
234	145	146

25

25

25

7. По какому принципу образованы ряды? Дайте максимально точный ответ. (4 балла)

7.1. 1583 г., 1617 г., 1661 г., 1743 г. Мирные договоры со Швецией

7.2. В.М. Васнецов, И.И. Левитан, В.И. Суриков, В. К. Бальницкий-Бируля, И.Е. Репин
художники-представители

8. Что (кто) является лишним в ряду? Объясните свой выбор. (4 балла)

8.1. Пересвет, Ослябя, Дмитрий Боброк-Волынский, Владимир Андреевич Серпуховской, Олег Рязанский
Олег Рязанский, был союзником Мамая

8.2. Самара, Царицын, Саратов, Белгород, Царёв-Борисов, Арзамас

Арзамас, остальные города построены при Борисе Годунове
45

9. Расположите в хронологической последовательности события (5 баллов)

- А. Образование в Иваново – Вознесенске Совета рабочих уполномоченных
- Б. вооруженное восстание в Москве
- В. Восстание лейтенанта Шмидта
- Г. Восстание в Лодзи
- Д. Всероссийская политическая стачка
- Е. Указ об укреплении начал веротерпимости

Ответ:

Е	А	Г	Д	В	Б
---	---	---	---	---	---

10. Соотнесите имена политических деятелей и организации, которые они возглавляли (всего 5 баллов)

1. А.И. Гучков	А) Учредительное собрание
2. Н.С. Чхеидзе	Б) Петроградский военно-революционный комитет
3. Н.И. Подвойский	В) Центральный Военно-промышленный комитет
4. В.М. Чернов	Г) Центробалт
5. П.Е. Дыбенко	Д) Петроградский Совет рабочих и солдатских депутатов

Ответ:

1	2	3	4	5
Б	Д	В	А	Г

10.2 . Соотнесите правильно имена художников и названия их картин. (всего 5 баллов)

ИМЕНА	НАЗВАНИЯ КАРТИН
А) М. А. Врубель	1) «Черный квадрат»
Б) К. С. Петров-Водкин	2) «Масленица»
В) К.С. Малевич	3) «Пустышник»
Г) В. В. Кандинский	4) «Купание красного коня»
Д) Б. М. Кустодисв	5) «Царевна – Лебедь»
	6) «Прощание»


Ответ:

А	Б	В	Г	Д
5	4	1	6	2

11. Перед вами картины, иллюстрирующие важные события внешней политики России -заключение договоров с иностранными державами , а также некоторые статьи этих договоров. Соотнесите иллюстрацию с соответствующим отрывком из договора, обозначьте название этого договора и год его заключения. Все данные внесите в таблицу в хронологическом порядке. (17 баллов)

	<p>[...] СТАТЬЯ XIV Их величества императором всероссийским и султаном заключена особая конвенция, определяющая число и силы легких судов, которые они предоставляют себе содержать в Черном море для нужных по прибрежии распоряжений.</p> <p>1.</p>
	<p>[...] Статья II Условлено, что русско-подданные в Корее будут пользоваться совершенно таким же положением, как подданные других иностранных государств, а именно, что они будут поставлены в те же условия, как и подданные наиболее благоприятствуемой страны. Равным образом установлено, что, во избежание всякого повода к недоразумениям, обе высокие договаривающиеся стороны воздержатся от принятия на русско-корейской границе каких-либо военных мер, могущих угрожать безопасности русской или корейской территории</p> <p>2</p>

Б




[...]

СТАТЬЯ XIII

На юг от Балкан образуется провинция, которая получит наименование «Восточной Румелии» и которая останется под непосредственною политическою и военною властью е. и в султана на условиях административной автономии. Она будет иметь генерал-губернатором христианина.

3

В




СТАТЬЯ 8

Русские купцы в Китае, а китайские в России состоят под особым покровительством обоих правительств. Для наблюдения за купцами и предотвращения могущих возникнуть между ними и местными жителями недоразумений, русское правительство, на основании правил, принятых для Или и Тарбагатай, может назначить теперь же своих консулов в Кашгар и Ургу. Китайское правительство, равным образом, может, если бы пожелало, назначать своих консулов в столицах и других городах российской империи.

4.

Г



[...]

Статья V

Е. в. шах персидский, в доказательство искренней своей дружбы е. в. императору все-российскому, настоящею статьею как от своего имени, так и от имени своих наследников и преемников персидского престола признает торжественно все земли и все острова, лежащие между пограничною чертою вышеозначенною и между хребтом Кавказских гор и Каспийским морем, как равно и всех кочующих и других народов, в тех странах обитающих, принадлежащими на вечные времена Российской империи.


5.

Д



1. 1
Ст. 5 Провинции, которые 1 января 1772 года составляли часть прежде бывшего королевства Польского и после того перешли в разные времена во владение Пруссии, поступят... в полную собственность и обладание е. в. короля саксонского, под названием Варшавского герцогства...
Ст. 6. Город Данциг с пространством земли на 2 мили вокруг его имеет быть восстановлен в его независимости под покровительством их величеств короля прусского и короля саксонского...

Е 6



1. Соответственно словам Священных Писаний, повелевающих всем людям быть братьями, три договаривающиеся монарха пребудут соединены узами действительного и неразрывного братства и, почитая себя как бы единосемцами, они во всяком случае и во всяком месте станут подавать друг другу пособие, подкрепление и помощь; в отношении же к подданным и войскам своим они, как отцы семейств, будут управлять ими в том же духе братства, которым они одушевлены, для охранения веры, мира и правды.

Ж 7

иллюстрация	№ текста	Год	Название договора
Е	6	1807	Тильзитский мир
В	7	1815	Венский союз
Б	5	1829	Туркманчайский мир
Д	1	1856	Тарнопольский мир
Г	4	1860	Пекинский договор
Ж	3	1878	Берлинский конгресс
А	2	1905	Портсмутский мир

176.

12. Прочтите отрывок из исторического источника и кратко ответьте на вопросы. Ответы предполагают использование информации из источника и применение исторических знаний по курсу истории России. (5 баллов)

Из «Созерцания краткого» Сильвестра Медведева.

«В лето 7190 года, ... великий государь царь и великий князь... в его царския полаты пришед, великий господин святейший Иоаким патриарх Московский и вся Росии поаде ему, великому государю,

мир и благословение. И великий государь изволил святейшему патриарху, и властем, и своим государевым бояром говорить: "Впредь никому ни с кем никакими прежними случаи не считатися, и никого не укорить... Кто от скудости объявится где и в нижних каких чинех — и того в укоризну не ставить же и тем его не безчестити".

И того ж числа те книги преданы огню, государския Передняя полаты в сених... Того же лета, по челобитью бывшаго в заточении в Кирилове монастыре прежущаго патриарха Никона, повеле он, великий государь, возвратив оттуду, вселити в созданнем от него, Никона, Воскресенском монастыре. Никон при блаженныя памяти отце его, великом государе царе и великом князе Алексее Михайловиче, собором всех православных патриархов ... от патриаршества отставлен).

1) На основе текста документа и знаний по истории укажите, в каком году происходили описанные в первом абзаце текста события? Как звали упомянутого в тексте безымянного «великого государя царя и великого князя»? Назовите годы его царствования.


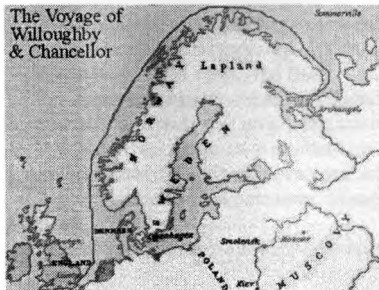
в начале правления Ивана IV Грозного

2) О чем говорит «великий государь» «святейшему патриарху, и властем, и своим государевым бояром»? Какие книги были «преданы огню»? Для ответа используйте знания по истории.

3) Укажите даты пребывания Никона на патриаршестве. Кто из патриархов участвовал в соборе, на котором Никон был извержен из священства?

13. Перед вами ряд иллюстраций и отрывок из документа. Все они связаны с временем правления одного отечественного царя. Рассмотрите представленные материалы и ответьте на вопросы. (5 баллов)

«Можно сказать, что русские люди находятся в великом страхе и повиновении, и каждый должен добровольно отдать свое имение, которое он собирал по клочкам и нацарапывал всю жизнь, и отдавать его на произволение и распоряжение государя. О, если бы наши смелые бунтовщики были бы в таком же подчинении и знали бы свой долг к своим государям! Русские не могут говорить, как некоторые ленивцы в Англии: «Я найду королеве человека, который будет служить ей за меня», или помогать друзьям оставаться дома, если конечное решение зависит от денег. Нет, нет, не так обстоит дело в этой стране; они униженно просят, чтоб им позволили служить великому князю, и кого князь чаще других посылает на войну, тот считает себя в наибольшей милости у государя. Если бы русские знали свою силу, никто бы не мог соперничать с ними, а их соседи не имели бы покоя от них. Но я думаю, что не такова божья воля: я могу сравнить русских с молодым конем, который не знает своей силы и позволяет малому ребенку управлять собою и вести себя на уздечке, несмотря на всю свою великую силу; а ведь если бы этот конь сознавал ее, то с ним не справился бы ни ребенок, ни взрослый человек»



13.1 Как зовут человека, представленного на иллюстрации №2?

Ричард Ченслер

13.2 Какова изначальная цель путешествия обозначенного на карте №1?

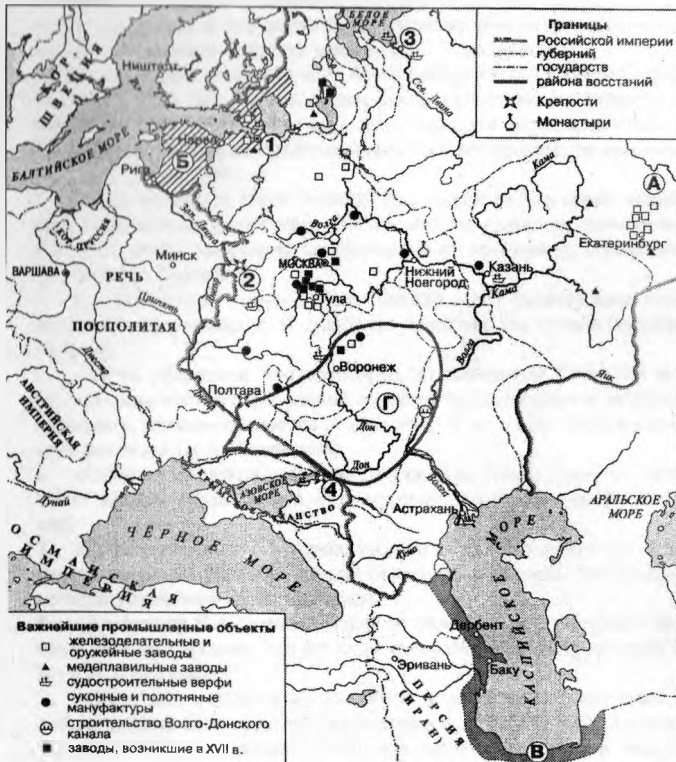
13.3 Кого автор отрывка именует «государем», «великим князем»?

13.4 Назовите архитектурный памятник, представленный на иллюстрации №3

13.5. В 1998 году в городе Северодвинске был установлен памятный знак в честь человека изображенного на иллюстрации №2. Восстановите надпись на памятный знак.

«Памятный знак в честь _____ с чьим приходом сюда начались _____»

14. 9 баллов



14.1 Назовите военное мероприятие российского монарха, результатом которого стало присоединение к России территории, обозначенной на схеме буквой В.

14.2 В каком веке были основаны предприятия, сосредоточенные в районе, обозначенном буквой А?

14.3 Назовите руководителя восстания обозначенного на схеме буквой Г

14.4. Выберите 3 верных суждения, относящихся к схеме

1. На схеме обозначен и подписан город, где был заключен договор, по которому к России отошли земли, обозначенные буквой Б

2. Город, обозначенный цифрой 2, в годы Смуты почти 2 года держал оборону от поляков

3. Город, обозначенный цифрой 4, окончательно вошел в территорию России в результате событий, обозначенных на схеме

10.

4. Обозначенная на схеме западная граница оставалась неизменной в 18 веке
5. Город, обозначенный цифрой 1, стал столицей нашего государства в 18 веке
6. Город, обозначенный цифрой 3 – Новгород



1 2 3

15. В 2020 году будет праздноваться 75-летний юбилей Победы в Великой Отечественной войне. Перед вами памятники трем ульяновцам, отдавшим свою жизнь за Отечество. Назовите имена героев, вспомните их подвиг, назовите место, где находится памятник (город, район). (9 баллов)

№	Имя	Подвиг	Место, где находится памятник
1.			
2.			
3.			

16. Перед Вами высказывания историков и современников о событиях и деятелях отечественной истории. Выберите из них одно, которое станет темой Вашего сочинения-эссе. Ваша задача – сформулировать собственное отношение к данному утверждению и обосновать его аргументами, представляющимися Вам наиболее существенными. При выборе тем исходите из того, что Вы:

1. Ясно понимаете смысл высказывания (не обязательно полностью или даже частично быть согласным с автором, но необходимо понимать, что именно он утверждает).
2. Можете выразить свое отношение к высказыванию (аргументированно согласиться с автором либо полностью или частично опровергнуть его высказывание).
3. Располагаете конкретными знаниями (факты, статистические данные, примеры) по данной теме.
4. Владеете терминами, необходимыми для грамотного изложения своей точки зрения.

ВСЕРОССИЙСКАЯ ОЛИМПИАДА ШКОЛЬНИКОВ ПО ИСТОРИИ 2019-2020 уч.г.

Муниципальный этап
10-11 классы. 150 минут

I тур

1. По какому принципу образованы ряды? (4 балла)


1.1. Александровский, Ришельевский, Демидовский, Нежинский

1.2. Константинопольский, Прутский, Адрианопольский, Белградский, Бухарестский

Мирное урегулирование в Русско-Турецких войнах

1.3. подушная подать; гербовый сбор; налоги с арбузов; ледакольный налог

1.4.



2. Соотнесите элементы правого и левого столбцов и занесите свои ответы в таблицу. Во втором перечне две лишние позиции (4 балла).

А. В нём много от прапорщика, и немного от Петра Великого.	1) Николай Второй
Б. «Сфинкс, не разгаданный до гроба»	2) Михаил Федорович
В. «Русский Гамлет»	3) Павел Первый
Г. «И умом не дошел, и нам будет поваден»	4) Николай Первый
	5) Алексей Михайлович
	6) Александр Первый

Ответ:

А	Б	В	Г
4	5	6	3

3. Укажите, кто или что является лишним в ряду. Свой ответ поясните (8 баллов)

3.1. «кондиции», «верховники», «хованщина», «бироновщина»

Кондиции - это условия и гарантии покупки по той же стоимости имущества

3.2. Мстислав Романович Киевский, Юрий Всеволодович, Мстислав Мстиславич Удатный, Мстислав Черниговский, Даниил Романович Волынский

3.3. А.В. Суворов, П.А. Румянцев, И.В. Гурко, Б.-К. Миних

3.4. «Боярыня Морозова», «Утро стрелецкой казни», «Пётр I допрашивает царевича Алексея Петровича в Петергофе», «Меншиков в Берёзове», «Переход Суворова через Альпы»

"Боярыня Морозова" так же картина, но изображает эпоху Царской России, а другие - это картины о войне 1812 года.

И-10-4

4. Рассмотрите изображение большой государственной печати Ивана Грозного, прочитайте описание печати и выполните задания. (20 баллов)



Надписи на печати:

Малый круг: «Бога в Троицы славимая милостию великий государь царь и великий князь Иван Васильевич всяя Руси и Владимирский, Московский».

Большой круг: «Новгородский, царь Казанский и царь Астороханский, государь Псковский и великий князь Смоленский, Тверский, Югорский, Пермский, Вятцкий и Болгарский и иных государь и великий князь Новагорода Низовския земли и Черниговский».

Вверху надпись: «Древо дарует древнее достояние» и изображение распятия.

Написи на малых печатях:

«Печать царства Казанского», «Печать Псковская», «Печать великого княжества Тверского», «Печать Пермская», «Печать Болгарская», «Печать Черниговская», «Печать Новагорода Низовския земли», «Печать Вятцкая», «Печать Югорская», «Печать великого княжества Смоленского», «Печать царства Астороханского», «Печать наместника Велико-го Новагорода».

4.1. Определите примерные годы изготовления печати (с какого по какой год могла быть изготовлена данная печать). Поясните свой ответ.

Печать могла быть изготовлена после завоевания Астороханского ханства

4.2. Какие элементы появились в лапах орла в XVII веке? Высок

4.3. Расположите в хронологической последовательности вхождение указанных земель в состав Московского государства (запишите соответствующие названиям земель цифры в первую строку таблицы ответов):

1. царство Казанское
2. Псков
3. великое княжество Тверское
4. земля Черниговская
5. великое княжество Смоленское
6. царство Астраханское
7. Новгород Великий

4.4. Укажите год вхождения указанных земель в состав Московского государства (запишите соответствующие названиям земель цифры во вторую строку таблицы ответов).

4.5. Укажите имя московского правителя в период вхождения указанных земель в состав Московского государства. Ответы занесите в таблицу:

4.3 Последовательность	2	4	3	5	7	1	6
4.4 Год вхождения							
4.5 Московский правитель					Иван III	Иван Грозный	Иван Грозный

2

5. События всемирной истории отразились в крылатых выражениях, вошедших в нашу речь. Определите крылатые выражения по приведенному объяснению их смысла. Ответ запишите в таблицу в соответствующую объяснению строку. (5 баллов).

Крылатое выражение	Объяснение смысла
1.	1. Всякое внезапное массовое уничтожение противников.
2.	2. Под данным выражением чаще всего понимают акт покаяния или покорности
3.	3. Неодобрительное высказывание о безразличном отношении к способу получения денег.
4.	4. Выражение используется в качестве оправдания морального компромисса, сделанного в целях личной выгоды.

5.	5. Говорится в ситуации, когда кто-либо вынужден публично признать что-либо, с чем он не согласен, либо отречься от своих убеждений, но при этом не изменяет собственного мнения
----	--

6. «Да» или «нет»? Если вы согласны с утверждением, напишите «Да», если не согласны – «Нет» (10 баллов).

Утверждение	Да/Нет
1. Первым митрополитом русского происхождения на Руси был Иов	Да
2. В Сарае, столице Золотой Орды, в 1261 году митрополитом Киевским Кириллом III была учреждена православная епархия.	Нет
3. Максим, митрополит Киевский, переезжает во Владимир по причине разорения и запустения Киева 1299 году.	Нет
4. Митрополит Пётр способствовал переносу митрополичьей кафедры из Владимира в Москву.	Да
5. Исидор Киевский, митрополит Киевский и всея Руси, отказался подписать Флорентийскую унию.	Нет
6. Монах Филофей сформулировал концепцию «Москва-Третий Рим».	Да
7. В 1589 г. 23 января (5 февраля н.ст.) при Царе Борисе Федоровиче Годунове на Руси было учреждено патриаршество.	Нет
8. Обер-прокурор Святейшего Правительствующего Синода — светский чиновник, назначавшийся патриархом Московский и всея Руси.	Нет
9. В 1943 году был создан Поместный собор, на котором патриархом Московский и всея Руси был избран митрополит Сергей (Страгородский).	
10. В Ульяновске установлен памятный знак на месте, где с 1941-го по 1943 год располагалась резиденция Патриаршего местоблюстителя митрополита Сергея (Страгородского).	

7. Прочтите фрагменты биографии исторических деятелей российской истории, рассмотрите изображения. Заполните таблицу: в соответствующей фрагменту строке напишите фамилию исторического деятеля, укажите его портрет (римской цифрой) и герб его рода (арабской цифрой). (12 баллов).

А) Его старинный род – татарского происхождения. Представители его со второй половины XV в. состояли на русской службе. Получил прекрасное образование. Ораторские способности и свободное владение французским, немецким, греческим, латинским и другими языками восхищали современников. Опубликовал ряд работ по древнегреческой литературе и археологии. Входил в литературное общество «Арзамас». В 32 года назначен Президентом Академии наук и оставался им до самой смерти. Стремился усилить правительственный контроль над университетами и гимназиями. Вместе с тем при нем было положено начало реальному образованию в России и восстановлена практика командирования учёных за границу.



Б) Он родился в семье лютеранского пастора в Вестфалии. В России стал сначала личным переводчиком Петра I, а затем и вице-канцлером Российской империи, и графом. Выполняя дипломатические поручения, прославился тем, что мог говорить о деле часами, не произнося ни слова по существу, чем приводил в неистовство даже дипломатов. Был скуповат, но взятки никогда не брал, являя собой тип добросовестного и умелого служаки. Пережил двух императоров и двух императриц, оставаясь в тени политической жизни.

В) Происходил из дворянского рода. С 1814 г. становится близко к государю, облачается его полным доверием и делается чем-то вроде первого министра. С 1823 г. он является единственным докладчиком при государе по всем делам, даже по ведомству Святейшего

синода; начальники отдельных частей управления являлись с докладом к нему, который уже сообщения их представлял государю. Деятельность его можно обозначить словами одного современника, который сказал о нем: «Хотел из России построить казарму, да еще поставить фельдфебеля к дверям».

Родился 12 января (по н. ст.) 1772 года в глухом селе Черкутине Владимирской губернии в бедной семье сельского священника. Около 1780 года был устроен во Владимирскую епархиальную семинарию, где, ввиду обнаруженных им способностей, был записан под выдуманной фамилией. Переводится она как «Надежин», то есть «подающий надежды», от латинского "speranto" – «надежда».

Благодаря своим способностям и трудолюбию привлёк внимание императора Александра I и, заслужив его доверие, возглавил его реформаторскую деятельность.




1.



2.



3.



4.



Ответ:

Уваров Меньшиков

	А)	Б)	В)	Г)
Фамилия	Аракчеев	Аракчеев	Аракчеев	Спиракинский
Портрет	III	IV	II	II I
Герб	3/4	1	2	3

2

3

3

2

10

8. Внимательно рассмотрите изображение и ответьте на вопросы (13 баллов).



8.1 Юбилею какой межправительственной экономической организации посвящена марка (напишите полное название).

8.2 Назовите страны-участницы данной организации в год выхода марки (постарайтесь привести полное название государств в год выхода марки)

8.3 Сколько лет просуществовала данная организация? _____

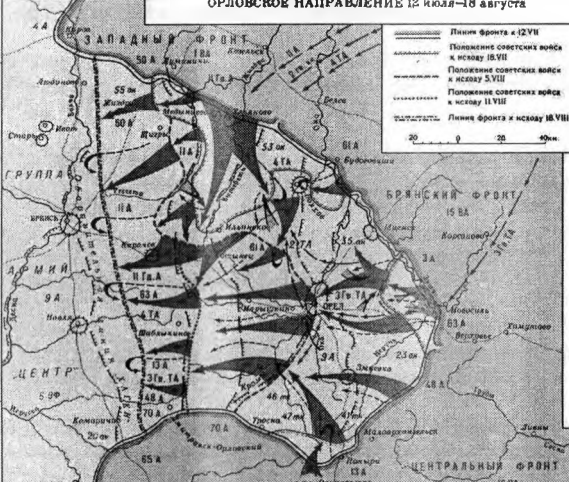

8.4 Как называлась коллективная валюта, мера стоимости, средство платежа и накопления для организации многосторонних расчётов стран-участниц организации.

9. Совсем недавно, 16 июля, мы отмечали 200-летие выхода из Кронштадта кораблей южной полярной экспедиции на шлюпах «Восток» и «Мирный» под командованием капитана 2-го ранга Фаддея Беллинсгаузена и Михаила Лазарева. Им удалось совершить одно из важнейших географических открытий – в 1820 году экспедиция открыла Антарктиду.

Ф.Ф. Беллинсгаузен впервые 18 атоллов были описаны и нанесены на карту мира и названы им именами выдающихся соотечественников, например, атолл Тикехау назван атоллом Крузенштерна.

Беллинсгаузен дал другое название архипелагу – острова Россиян.

Используя информацию в таблице, напишите, как были названы атоллы острова Россиян. (4 балла).

Информация о россиянине, чьим именем назван атолл	Атоллы архипелага Туамоту	Название, данное Беллинсгаузеном
А. С. Пушкин посвятил ему стихотворение «Полководец»	Атолл Рароиа	
В годы Великой Отечественной войны его именем была названа операция, ход которой представлен на схеме: ОРЛОВСКОЕ НАПРАВЛЕНИЕ 12 июля—18 августа	Атолл Макемо	
		
Герой Отечественной войны 1812 года, смертельно раненный 14 декабря 1825 года на Сенатской площади Санкт-Петербурга.	Атолл Фааите	Венерный - императорский Санкт - Петербурга
В годы Великой Отечественной войны его именем была названа операция, ход которой представлен на схеме:	Атолл Тикен	
		

10. Заполните пробелы в тексте. Ответ оформите в виде перечня элементов под соответствующими номерами (15 баллов)

События, развернувшиеся более 80 лет назад в мае – августе 1939 года на территории _____ 1) _____ в районе реки _____ 2) _____, в отечественной историографии принято называть «военным конфликтом». Они стали естественным продолжением событий на озере _____ 3) _____ в _____ 4) _____ году, поскольку милитаристская _____ 5) _____ не оставила мысли о возможности создания сырьевой базы для своей экономики за счёт экспансии территорий _____ 6) _____ и _____ 7) _____. С этой целью в оккупированной _____ 8) _____ войсками _____ 9) _____, являвшейся составной частью _____ 10) _____, было создано марионеточное государство _____ 11) _____, с территории которого стали осуществляться военные провокации. В условиях доминирования _____ 12) _____ вооружённых сил в воздухе и отсутствия инициативы со стороны Красной армии на земле, командир 57-го особого корпуса комдив Н.В. Фекленко в начале июня был отозван в Москву, на его место 11 июня 1939 года был назначен заместитель командующего Белорусским особым военным округом _____ 13) _____. Он поставил перед войсками задачу прочно удерживать плацдарм на правом берегу реки и одновременно подготовить контрудар из глубины. 20 августа 1939 года началось наступление _____ 14) _____ войск. К утру 31 августа территория _____ 15) _____ была полностью очищена от агрессора.

Ответы:

- 1) _____
- 2) _____
- 3) _____
- 4) _____
- 5) _____
- 6) _____
- 7) _____
- 8) _____
- 9) _____
- 10) _____
- 11) _____
- 12) _____
- 13) _____
- 14) _____
- 15) _____

11. Приближается 75-летний юбилей победы советского народа в Великой Отечественной войне. В нашем городе сохраняют благодарную память о поколении победителей.

Именами участников Великой Отечественной войны названы улицы города Ульяновска.

Заполните пропуски в данных предложениях: напишите названия улиц, носящих имена героев. (15 баллов)

1. Улица _____ - в честь полного кавалера Ордена Славы, воспитанника Ивановского детского дома.
2. Улица _____ - в честь Героя Советского Союза, лётчика-истребителя, участника войны в Испании, полковника, уроженца г. Симбирска, командира истребительного полка, получившего в боях десять ранений.
3. Улица _____ - в честь Героя Советского Союза, участника Парада Победы, генерал-полковника, уроженца п. Карсун, начальника штаба Ленинградского фронта.

4. Улица _____ - в честь Героя Советского Союза, красноармейца, героически погибшего 29 октября 1944 года в боях за Эстонию.
5. Улица _____ - в честь Героя Советского Союза, лётчика-бомбардировщика, уроженца с. Большие Ключищи, 23 марта 1944 года, таранившего своим подбитым самолётом немецкий военный корабль.
6. Улица _____ - в честь Героя Советского Союза, жителя Ульяновска, выпускника Ульяновского танкового училища, участника боёв за освобождение Украины, героически погибшего 22 июля 1944 года.
7. Улица _____ - в честь Героя Советского Союза, воспитанника Ивановского детского дома, 23 февраля 1943 года, закрывшего грудью амбразуру фашистского дзота.
8. Улица Врача _____ - в честь главного врача Языковской районной больницы, участника антифашистского сопротивления в лагере для военнопленных в г. Славута, казнённого гитлеровцами 5 августа 1942 года.
9. Улица _____ - в честь уроженки г. Мелекесс, участницы антифашистского сопротивления в лагере для военнопленных Ортельсбург, казнённой фашистами 14 октября 1944 года.
10. Улица _____ - в честь дважды Героя Советского Союза, генерал-майора, уроженца г. Симбирска, командующего гвардейским авиакорпусом, погибшего 11 февраля 1945 года во время боевого вылета.
11. Проспект Генерала _____ - в честь уроженца с. Шатрашаны, участника 1-й Мировой, Гражданской и Великой Отечественной войн, командующего Закавказским фронтом, полного Георгиевского кавалера, Героя Советского Союза.
12. Улица _____ - в честь Героя Советского Союза, танкиста, уроженца с. Большой Кувай, погибшего осенью 1942 года в боях за город Сталинград.
13. Улица _____ - в честь Героя Советского Союза, участника обороны Брестской крепости, уроженца села Красная Река Старомайнского района
14. Проезд Героя России _____ - в честь участника Великой Отечественной войны, лётчика штурмовой авиации, совершившего 115 боевых вылетов, лично уничтожившего 50 автомашин, 11 танков, 26 орудий, 22 железнодорожных вагона и 2 склада боеприпасов противника.
15. Улица _____ - в честь Героя Советского Союза, уроженца с. Луговое (бывшая деревня Грязнуха) Ульяновской области, сапёра, гвардии ефрейтора, погибшего на боевом посту при форсировании р. Западная Двина 24 июня 1944 года.

- логика: соединись Иван Данилович с Тверью – и Куликовская битва произошла бы на 53 года раньше. Если Иван Калита повторял прошлое междоусобных браней, то тверские князья приближали будущее». (А.Л. Юрганов)
3. «Уйдя из жизни, Иван Великий продолжал жить в своих делах. Его потомки придерживались основных направлений разработанной им политики, решали задачи, которые он поставил. Для того, чтобы выполнить составленную им программу, стране потребовались целых три столетия» (Н.С. Борисов).
 4. «... Он (Борис Годунов) был, прежде всего талантливым политическим деятелем, несомненным реформатором. И судьба его трагична, как судьба большинства реформаторов». (В.Б. Кобрин)
 5. «Легко убедиться, что некоторые из начинаний Петра III имели прогрессивный характер... Однако этот прогрессивный характер перечеркивается методами, которыми он пытался их проводить, указывающими на полное отсутствие у него такого важного качества, как политический реализм» (А.Б. Каменский).
 6. «Суворов по природе был, можно сказать, типом русского человека: в нем выразились самыми яркими красками все отличительные свойства нашей национальности...» (Д.А. Милотин)
 7. «Господствовавшее в дореволюционной (а одно время и в советской) историографии противопоставление первой и второй половины правления Александра I является в значительной степени условным» (Н.П. Ерошкин).
 8. «Александр II вступил на престол спокойно, ему не пришлось пройти к трону через площадь, залитую кровью, как его отцу, но наследие он получил куда более тяжелое, чем Николай I» (А.Н. Сахаров).
 9. «Советское государство создавало механизм, подавляющий тенденцию к гражданской войне, но сила его оказалась недостаточной... Сегодня можно реконструировать весь период от февраля 1917 г. до конца 1918 г. как систему «создания» гражданской войны» (С.Г. Кара-Мурза).
 10. «Советский Союз одержал победу в смертельной схватке с германским фашизмом, располагавшим ресурсами всех стран Европы (кроме Великобритании), главным образом благодаря самоотверженности и мужеству народов Советского Союза и стабильности советской системы, обеспечившей в короткий срок мощный индустриальный рывок и прорыв в деле повышения культурно-образовательного уровня населения страны» (С.Л. Тихвинский).
 11. «Лидером “перестройки” скорее можно считать Л.И. Брежнева, который сделал собственнo для развала Советского Союза гораздо больше М.С. Горбачева» (Г.Г. Почепцов).
 12. «Развал Советского Союза был величайшей геополитической катастрофой 20 века, в первую очередь, из-за разрушения существовавшей системы биполярного мира» (А.Г. Лукашенко).

**ДО ВСТРЕЧИ НА РЕГИОНАЛЬНОМ ЭТАПЕ
ВСЕРОССИЙСКОЙ ОЛИМПИАДЫ ШКОЛЬНИКОВ ПО ИСТОРИИ!**

ЗАПОЛНЯЕТСЯ ЖЮРИ:

ИТОГО: _____ БАЛЛОВ.

I тур

	1	2	3	4	5	6	7	8	9	10	11	I тур
Мак балл	4	4	8	20	5	10	12	13	4	15	15	110
Баллы участника	1	1		2		5	10					18+1
Подписи проверяющих:												<i>M</i>

II тур

	1	2	II тур	Всего за работу
Мак балл	15	25	40	150
Баллы участника	2	20		40+1=41
Подписи проверяющих			<i>M</i>	

И-10-4

Д. А. Милоткин говорил, что «Суворов по своей природе был, можно сказать, типом русского человека: нам выразившееся самым ярким образом все ~~благородные~~ ~~свободные~~ ~~наши~~ ~~национальные~~

А ведь и правда, можно сказать, что Суворов ярким представителем русской реалистичности. Почему я сравниваю с именем автора? А все потому, что русский человек — это просто! Русскому человеку ^{во-первых,} шило не нужно, главное, чтобы семья была здорова, накормлена и т.д. Русский — А ведь Суворов был именно таким! Для него семьей являлась его армия. Во каждом солдате он не видел души. Каждый называл своим братом. Сам Суворов много не просил, питался из одного котла вместе с солдатами, спал на обычной мешковине, чтобы быть ко всему готовым. Это — русская простота! ~~Важно~~ Во-вторых, Суворов — патриот.

В истории огромное количество примеров, когда самый обычный русский человек откликался оружием и инструментами и брался за оружие, чтобы встать на защиту своей родины. ~~Вот и~~ ~~я~~ ~~считаю~~, что Суворов был одним из тех патриотов своей страны, который отдал много, ради ее защиты.

По-прежнему, хотя и русский человек простой, от
не шумный, на против, русские люди довольно
умны, только все не везде используют свой ум.

А Суворов был гением! Что стояло тогда в его
стратегии, ведение боя и т.д. И напоследок хочется
сказать, что он не только любил свою Родину,
но и русского человека. Для него жертвой был
потеря только одного человека считалась с прои-
шением, в пример хочется привести его
слова: "Да разве это победа?" (при захвате крепос-
ти Измаил).

Поэтому я всецело поддерживаю и сочув-
ствую словам автора, что Суворов - один
из самых ярких представителей нашей
национальности!

200

